

GELDREKENEN

functioneel



Geldrekenen

Noteer hoe je met zo weinig mogelijk munten en biljetten teruggeeft



betaald met

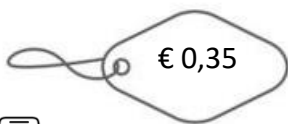


= €



Hoeveel moet ik teruggeven ? € - € = €

Dat doe ik zo:



betaald met

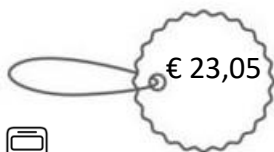


= €



Hoeveel moet ik teruggeven ? € - € = €

Dat doe ik zo:



betaald met



= €




Hoeveel moet ik teruggeven ? € - € = €

Dat doe ik zo:



betaald met   = €


 Hoeveel moet ik teruggeven ? € - € = €

Dat doe ik zo:



betaald met   = €

 Hoeveel moet ik teruggeven ? € - € = €

Dat doe ik zo:



betaald met     = €


 Hoeveel moet ik teruggeven ? € - € = €

Dat doe ik zo:






									

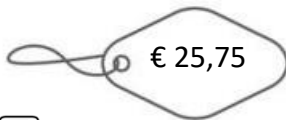


betaald met  = €

 Hoeveel moet ik teruggeven ? € - € = €

Dat doe ik zo:











									

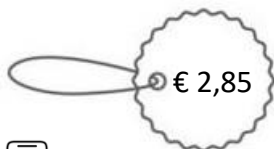


betaald met  = €


 Hoeveel moet ik teruggeven ? € - € = €

Dat doe ik zo:


									



betaald met  = €

 Hoeveel moet ik teruggeven ? € - € = €

Dat doe ik zo:






betaald met  = €



Hoeveel moet ik teruggeven ? € - € = €

Dat doe ik zo:



betaald met  = €



Hoeveel moet ik teruggeven ? € - € = €

Dat doe ik zo:



betaald met  = €



Hoeveel moet ik teruggeven ? € - € = €

Dat doe ik zo:













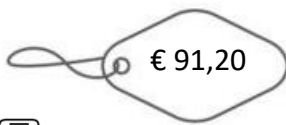
betaald met  = €



Hoeveel moet ik teruggeven ? € - € = €

Dat doe ik zo:













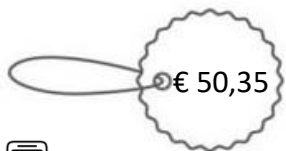
betaald met     = €



Hoeveel moet ik teruggeven ? € - € = €

Dat doe ik zo:





betaald met   = €



Hoeveel moet ik teruggeven ? € - € = €

Dat doe ik zo:



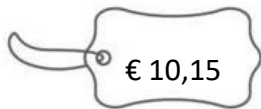
betaald met  = €



Hoeveel moet ik teruggeven ? € - € = €

Dat doe ik zo:



betaald met  = €



Hoeveel moet ik teruggeven ? € - € = €

Dat doe ik zo:



betaald met  = €



Hoeveel moet ik teruggeven ? € - € = €

Dat doe ik zo:













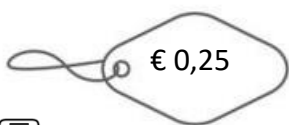
betaald met  = €



Hoeveel moet ik teruggeven ? € - € = €

Dat doe ik zo:













betaald met  = €



Hoeveel moet ik teruggeven ? € - € = €

Dat doe ik zo:



betaald met   = €



Hoeveel moet ik teruggeven ? € - € = €

Dat doe ik zo:




betaald met  = €



Hoeveel moet ik teruggeven ? € - € = €

Dat doe ik zo:



betaald met   = €



Hoeveel moet ik teruggeven ? € - € = €

Dat doe ik zo:



betaald met  = €



Hoeveel moet ik teruggeven ? € - € = €

Dat doe ik zo:



betaald met



= €



Hoeveel moet ik teruggeven ? € - € = €

Dat doe ik zo:



betaald met

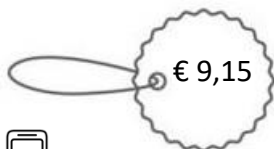


= €



Hoeveel moet ik teruggeven ? € - € = €

Dat doe ik zo:



betaald met



= €




Hoeveel moet ik teruggeven ? € - € = €


Dat doe ik zo:



betaald met  = €


 Hoeveel moet ik teruggeven ? € - € = €

Dat doe ik zo:



betaald met  = €


 Hoeveel moet ik teruggeven ? € - € = €

Dat doe ik zo:



betaald met  = €

 Hoeveel moet ik teruggeven ? € - € = €

Dat doe ik zo:













betaald met  = €



Hoeveel moet ik teruggeven ? € - € = €

Dat doe ik zo:













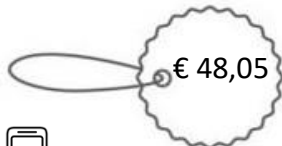
betaald met   = €



Hoeveel moet ik teruggeven ? € - € = €

Dat doe ik zo:



betaald met  = €



Hoeveel moet ik teruggeven ? € - € = €

Dat doe ik zo:

€ 107,10

betaald met



= €



Hoeveel moet ik teruggeven ? € - € = €

Dat doe ik zo:

€ 13,70

betaald met



= €



Hoeveel moet ik teruggeven ? € - € = €

Dat doe ik zo:

€ 102,90

betaald met



= €



Hoeveel moet ik teruggeven ? € - € = €

Dat doe ik zo:



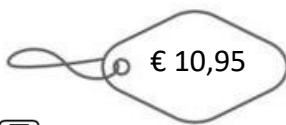
betaald met    = €



Hoeveel moet ik teruggeven ? € - € = €

Dat doe ik zo:













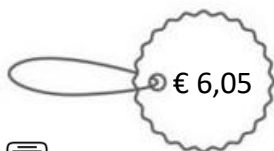
betaald met  = €



Hoeveel moet ik teruggeven ? € - € = €

Dat doe ik zo:




betaald met   = €




Hoeveel moet ik teruggeven ? € - € = €

Dat doe ik zo:











									



betaald met    = €


 Hoeveel moet ik teruggeven ? € - € = €

Dat doe ik zo:











									



betaald met    = €


 Hoeveel moet ik teruggeven ? € - € = €

Dat doe ik zo:











									



betaald met    = €

 Hoeveel moet ik teruggeven ? € - € = €

Dat doe ik zo:



betaald met

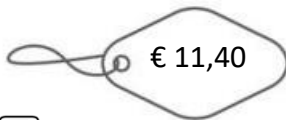


= €



Hoeveel moet ik teruggeven ? € - € = €

Dat doe ik zo:



betaald met

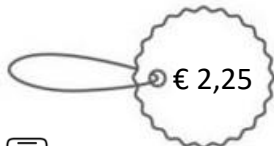


= €



Hoeveel moet ik teruggeven ? € - € = €

Dat doe ik zo:



betaald met



= €




Hoeveel moet ik teruggeven ? € - € = €











Dat doe ik zo:



betaald met     = €


 Hoeveel moet ik teruggeven ? € - € = €

Dat doe ik zo:


									



betaald met    = €


 Hoeveel moet ik teruggeven ? € - € = €

Dat doe ik zo:



betaald met    = €

 Hoeveel moet ik teruggeven ? € - € = €

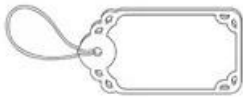
Dat doe ik zo:

Billie gaat naar de frituur. Ze koopt een pakje friet voor € 3,20. Een potje ketchup erbij kost € 1,20. Ze bestelt er ook nog een portie bitterballen voor € 3. Ze betaalt met een briefje van € 20.

Hoeveel moet Billie betalen?

..... + + =










betaald met



Hoeveel krijgt Billie terug in de frituur? - =

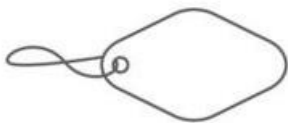
Dat gaat zo:

Victor gaat naar de bakker. Hij koopt een groot bruin brood dat € 2,95 kost. Hij koopt ook nog 2 donuts die per stuk € 1,05 kosten. Ook koopt hij nog 2 sandwiches die per stuk € 0,90 kosten. Hij betaalt met een briefje van € 50.

Hoeveel moet hij betalen ? Schrijf je berekening hieronder:

..... =













betaald met



Hoeveel krijgt Victor terug ? - =

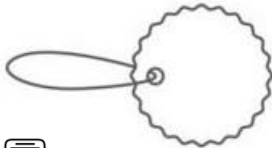
Dat gaat zo:

Lowie gaat naar de speelgoedwinkel.
 Hij koopt er een nerf geweer met 24 pijltjes voor € 34,90.
 Een extra pak met 50 pijltjes kost daar € 11,95.
 Voor € 25,95 koopt hij er ook een draagbaar doel om op te schieten.
 Hij betaalt met een briefje van € 100.

Hoeveel moet hij betalen? Schrijf je berekening hieronder:

..... =



betaald met



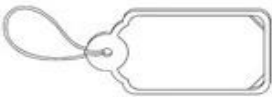
Hoeveel krijgt Lowie terug ? - =

Dat gaat zo:

Marie gaat naar de snoepwinkel.
 Ze koopt een pakje kauwgom en dat kost € 2,10. Voor € 4,25 koopt ze een pak M&M's met
 nootjes. Ook koopt ze nog 5 kleine zakjes M&M's zonder nootjes. Elk klein zakje kost € 1,15.
 Als laatste koopt ze een zak gemengde gummibeertjes voor € 3,05.
 Ze betaalt met een briefje van €50.

Hoeveel moet Marie betalen voor alle snoep samen? Schrijf je berekening hieronder:

..... =



betaald met



Hoeveel zal Marie terugkrijgen ? - =

Dat gaat zo:

